

10 клас

2 тур

Паважаныя ўздельнікі алімпіяды! Вам прапаноўваюцца практычныя заданні, на якія неабходна даць адказы. Адказы неабходна запісваць у адведзенных для іх месцах акуратным, разборлівым почыркам.

Жадаем вам поспехаў!

I. Выберыце правільны варыянт адказу (кожны правільны адказ – 1 бал)	
Гісторыя Беларусі	Сусветная гісторыя
<p>1. На паселішчы Юравічы Калінкавіцкага раёна Гомельскай вобласці былі знойдзены рэшткі пасудзіны з выявай</p> <ul style="list-style-type: none">а. чалавека з качкайб. чалавекав. мамантаг. шарсцістага насарога <p>2. Да індаеўрапейцаў не адносяцца</p> <ul style="list-style-type: none">а. славянеб. балтыв. фіна-угрыг. германцы <p>3. На землях якога славянскага саюзу ўзнікла Полацкае княства?</p> <ul style="list-style-type: none">а. дрыгавічоўб. радзімічаўв. крывічоў-палачанг. драўлян <p>4. Цэнтральны орган аўтаномнага яўрэйскага абшчыннага самакіравання у Рэчы Паспалітай, які дзейнічаў з сярэдзіны XVI да другой палове XVIII стагоддзяў, меў назву:</p> <ul style="list-style-type: none">а. умаб. кагалв. ваадг. парафія <p>5. Рамеснік, які займаўся вырабам і направай збруі, называўся:</p>	<p>16. Падчас Чацвёртага крыжовага паходу крыжаносцы захапілі ў 1204 г. наступны горад</p> <ul style="list-style-type: none">а. Іерусалімб. Афіныв. Канстантынопальг. Трыпалі (Ліван) <p>17. Камандуючым польска-аўстрыйска-нямецкім войскам у бітве пад Венай у 1683 г. быў</p> <ul style="list-style-type: none">а. Імрэ Цёкёліб. Леапольд I Габсбургв. Ян Сабескіг. Мехмед IV <p>18. Першым здзейніў поўнае плаванне вакол Антарктыды на шыротах да 60 да 70 градусаў</p> <ul style="list-style-type: none">а. Ч. Уілкэб. Ф. Ф. Белінсгаузенв. Дж. Кукг. У. Сміт <p>19. Палтаўская бітва, па выніках якой вызначыўся пералом у Паўночнай вайне на карысць Расіі, адбылася ў</p> <ul style="list-style-type: none">а) 1700 г.б) 1709 г.с) 1708 г.д) 1703 г.

<p>a) гарбар b) бондар c) рымар d) кушнер</p> <p>6. Часовае аб’яднанне шляхты ў XVIII ст. з мэтай падтрымкі ўзброенай сілай тых ці іншых палітычных патрабаванняў – гэта</p> <p>a) саюз b) групоўка c) канфедэрацыя d) альянс</p> <p>7. Што з ніжэйпералічанага не было характэрна для Контррэфармацыі ў ВКЛ:</p> <p>a) насіла больш жорсткі характар, чым у Заходняй Еўропе b) была накіравана не толькі супраць пратэстантаў, але і супраць праваслаўнай царквы c) ажыццяўлялася ордэнам езуітаў d) езуіты карысталіся падтрымкай каралеўскай улады Рэчы Паспалітай</p> <p>8. Кіраўнік антыфеадальнага выступлення беларускіх сялян у Крычаўскім старостве 1740–1744 гг.</p> <p>a) Багдан Хмяльніцкі b) Васіль Вашчыла c) Іясафат Кунцэвіч d) Стахор Мітковіч</p> <p>9. У маі 1820 г. з дазволу кіраўніцтва Віленскага ўніверсітэта Т.Занам была ўтворана легальная культурна-асветная арганізацыя – таварыства сяброў карыснай забавы, меўшае назву</p> <p>a) Прамяністыя b) Заране c) Таварыства філаматаў d) Патрыятычнае таварыства</p> <p>10. Якая галіна сельскагаспадарчай вытворчасці Беларусі прыйшла ў заняпад у выніку сусветнага аграрнага крызісу 80 – 90- х гг. XIX ст.?</p>	<p>20. Бухарэсцкая мірная дамова завяршыла:</p> <p>a) руска-шведскую вайну 1808–1809 гг. b) савецка-фінскую вайну 1939–1940 гг. c) руска-турэцкую вайну 1806–1812 гг. d) руска-японскую вайну 1904–1905 гг.</p> <p>21. Аўтарам “Маніфесту з Картахены” з’яўляецца</p> <p>a) Сімон Радрыгес b) Сімон Балівар c) Хосе Томас Бавес d) Хасэ Антонія Паэс</p> <p>22. Замах на жыццё міністра ўнутраных спраў П.А. Сталыпіна ў верасні 1911 ажыццявіў прастаўнік партыі:</p> <p>a) бальшавікоў b) меньшевікоў c) эсэраў d) анархістаў-камуністаў</p> <p>23. План нападу гітлераўскай Германіі на краіны Бенілюкса, а таксама Францыю называўся:</p> <p>a) «Гельб» b) «Вайс» c) «Рот» d) «Блау»</p> <p>24. Лідар якой усходнеславянскай краіны меў мянушку “лепшы вучань Сталіна”?</p> <p>a) Польшчы b) Венгрыі c) Чэхаславакіі d) ГДР</p> <p>25. Першая ў гісторыі Польскай народнай рэспублікі ўсеагульная забастоўка адбылася ў 1956 г. у горадзе:</p> <p>a. Варшава</p>
---	--





<p>а. мяса-малочная жывёлагадоўля б. вытворчасць тэхнічных культур в. вінакурэнне г. вытворчасць збожжа</p> <p>11. Як скарочана называўся савецкі орган улады, утвораны 27.11.1917 г. для кіравання Заходняй вобласцю і фронтам? а. Аблвыканкомзах б. СНК Заходняй вобласці в. Вялікая Беларуская Рада г. Цэнтральная Беларуская Рада</p> <p>12. Першая Канстытуцыя БССР была прынята на: а. I Усебеларускім з’ездзе Саветаў рабочых, сялянскіх і чырвона-армейскіх дэпутатаў 2–3 лютага 1919 г. у Мінску б. Пленуме ЦК РКП(б) 24 снежня 1918 г. в. Пасяджэнні Часовага ўраду Беларусі 1 студзеня 1919 г. г. Пасяджэнні прэзідыума ЦВК Літоўска-Беларускай ССР 27 лютага 1919 г.</p> <p>13. У якім горадзе месцілася беларус-кая гімназія, якая адзіная не была зачынена ў канцы 1930-х гг. ? а. Навагрудская б. Віленская в. Радашковіцкая г. Клецкая</p> <p>14. Што такое рэвіндыкацыя? а. працэс вяртання каталіцкаму касцёлу забраных праваслаўнай царквой будынкаў і маёмасці ў часы Расійскай Імперыі б. працэс ліквідацыі цераспалосіцы праз звядзенне сялянскіх зямель у адзін участак з наступным выхадам на хутары в. карныя паліцэйскія экспедыцыі г. мерапрыемства па ліквідацыі сервітутаў</p> <p>15. Які беларускі горад немцы ў гады</p>	<p>б. Познань в. Беласток г. Торунь</p> <p>26. Увод войскаў Варшаўскага дагавора ў Чэхаславакію 21 жніўня 1968 г. адбыўся ў рамках аперацыі: а. «Дыядэма» б. «Вісла» в. «Дунай» г. «Тайфун»</p> <p>27. Пасля звяржэння прэзідэнта Сальвадора Альендэ ў выніку ваеннага перавароту да ўлады ў Чылі ў 1973 г. прыйшоў генерал а. Карлас Пратс б. Рэне Шнайдэр в. Аўгуста Піначэт г. Марыё Сепульведа</p> <p>28. Польскае аб’яднанне прафсаюзаў, якое было створана ў 1980 г. і актыўна змагалася супраць камуністычнага рэжыму, мела назву: а. Польская аб’яднаная рабочая партыя б. Салідарнасць в. Грамадзянская платформа г. Права і справядлівасць</p> <p>29. Які ваенны канфлікт з удзелам войск СССР заходнія СМІ назвалі «Мядзвежы капкан»? а. савецка-фінляндскую вайну б. афганскую вайну в. савецка-кітайскі ваенны канфлікт г. вайну ў В’етнаме</p> <p>30. У 2015 годзе лаўрэатам Нобелеўскай прэміі па літаратуры стала пісьменніца: а. Герта Мюлер б. Святлана Алексіевіч в. Вольга Такарчук г. Луіза Глюк</p>
---	--

вайны называлі “страляючым горадам” з-за актыўнай дзейнасці падпольшчыкаў? а. Гомель б. Мінск в. Гродна г. d) Жлобін	
--	--

II. Правільна судзіце элементы дзвюх мностваў

За кожны поўны правільны адказ – 2 балы

31) выявы замкаў – аб’ектаў сусветнай спадчыны ЮНЭСКО і іх назвы

			
A.	B.	B.	Г.
1. Замак Марыенбург –	2. Кведлінбургскі замак –	3. замак Хімедзі –	4. Мірскі замак –

32) выявы каралеў Англіі (Велікабрытаніі) і іх імёны

			
A.	B.	B.	Г.
1. Елізавета II –	2. Елізавета I –	3. Ганна Сцюарт –	4. Ледзі Джэйн Грэй –

33) еўрапейскія дзяржавы XIX–XX стст. і дынастыі, што кіравалі ў іх



1	Румынія	A	Саксен-Кобург-Готская дынастыя
2	Велікабрытанія	B	Дынастыя Гагенцалерн-Зігамарінген

3	Данія	В	Дынастыя Габсбургаў
4	Аўстра-Венгрыя	Г	Дынастыя Глюксбургаў
1 –	2 –	3 –	4 –

34) помнікі дойлідства і дзяржаўныя ўтварэнні

			
А.		Б.	
			
В.		Г.	
1. Рэч Паспалітая –	2. Расійская імперыя –	3. Польшча 1921–1939 гг. –	4. Рэспубліка Беларусь –

35) выявы магнацкіх рэзідэнцый і прозвішчы іх уладальнікаў



	
А.	Б.

			
В.		Г.	
1. Сапегі –	2. Тызенгаўзы –	3. Агінскія –	4. Валовічы –





36) назву вайны XVII–XVIII стст. і мірнае пагадненне, якім яны завяршыліся

1. Вайна за іспанскую спадчыну	А. Вестфальскі мір		
2. Вайна паміж Расіяй і Рэччу Паспалітай (1654–1667 гг.)	Б. Утрэхтская мірная дамова		
3. Трыццацігадовая вайна	В. Аліўскі мір		
4. Вайна паміж Швецыяй і Рэччу Паспалітай (1655–1660 гг.)	Г. Андрусаўскае перамір’е		
1. –	2. –	3. –	4. –

37) выяву еўрапейскага манарха XVII–XVIII стст. і назву краіны, дзе ён кіраваў

			
А	Б	В	Г
1. Данія –	2. Англія –	3. Францыя –	4. Іспанія –

38) герб і шляхецкі род Вялікага Княства Літоўскага, якому герб належаў

			
А.	Б.	В.	Г.
1. Хадкевічы –	2. Кішкі –	3. Корсакі –	4. Гаштольды –

39) помнік кіеўскаму князю і імя апошняга

			
А.	Б.	В.	Г.
1. Святаслаў Ігаравіч –	2. Уладзімір Святаславіч –	3. Яраслав Уладзіміравіч –	4. Уладзімір Усеваладавіч –

40) імя савецкага барда і ягоную фатаграфію

			
А.	Б.	В.	Г.
1. Уладзімір Высоцкі –	2. Аляксандр Галіч –	3. Булат Акуджава –	4. Юрый Візбар –

III. Расстаўце ў правільнай храналагічнай паслядоўнасці

За кожны поўны правільны адказ – 2 балы

41) першыя ўпамінанні гарадоў Беларусі

А. бітва на Нямізе і першае ўпамінанне ў летапісе пра Менск.	Б. першае ўпамінанне ў «Аповесці мінулых гадоў» пра Полацк.
В. першае ўпамінанне пра Тураў.	Г. першае ўпамінанне пра Віцебск
1 –	2 –
3 –	4 –

42) газеты, якія выдаваліся/распаўсюджваліся на тэрыторыі Беларусі

А. Мінскія губернскія ведамасці	Б. Наша Ніва
В. Літоўскія епархіяльныя ведамасці	Г. Мінскі лісток
1 –	2 –
3 –	4 –

43) падзеі гісторыі старажытнай Грэцыі

А. Будаўніцтва Парфянона ў Афінах	Б. Грэка-персідскія войны
В. Росквіт Афінскай дэмакратыі пры Перыкле	Г. Траянская вайна
1 –	2 –
3 –	4 –

44) падзеі барацьбы Вялікага Княства Літоўскага з крыжакамі

А. захоп Коўна крыжакамі	Б. Торуньскі мір
В. перамога войск ВКЛ пад	Г. Грунвальдская бітва

Коркгаўзам			
1 –	2 –	3 –	4 –

45) французскія дынастыі па часу праўлення ад самай ранняй да найбольш позняй

А. Дынастыя Капецінгаў		В. Дынастыя Каралінгаў	
Б. Дынастыя Меравінгаў		Д. Дынастыя Валуа	
1 –	2 –	3 –	4 –

46) чыгункі, што праходзяць па тэрыторыі Беларусі, па часе пабудовы ад самай ранняй да найбольш позняй

А. Рыга-Арлоўская		В. Лібава-Роменская	
Б. Маскоўска-Брэсцкая		Г. Пецярбургска-Варшаўская	
1 –	2 –	3 –	4 –

47) дэмакратычныя таварыствы моладзі XIX ст. ад самага ранняга да найбольш позняга

А. Таварыства вайсковых сяброў		В. “Прамяністыя”	
Б. Дэмакратычнае таварыства		Г. Таварыства філаматаў	
1 –	2 –	3 –	4 –

48) падзеі Першай рускай рэвалюцыі ў 1905 г.

А. Стварэнне Усерасійскага сялянскага саюзу		В. Кастрычніцкая усерасійская палітычная стачка	
Б. Крывавая нядзеля		Г. паўстанне каманды браняносца «Пацёмкін»	
1 –	2 –	3 –	4 –

49) падзеі рэлігійнай гісторыі Вялікага Княства Літоўскага

А. Забойства ў Віцебску полацкага ўніяцкага архіепіскапа Іасафата Кунцэвіча		В. Замойскі сабор уніяцкага духавенства	
Б. Берасцейская царкоўная ўнія		Г. стварэнне Магілёўскай праваслаўнай епархіі	
1 –	2 –	3 –	4 –

50) падзеі савецкай гісторыі другой паловы XX ст.

А. Увод савецкіх войскаў у Афганістан		В. апошняя антыалкагольная кампанія ў СССР	
Б. Памежны канфлікт на востраве Даманскі		Г. XX з’езд КПСС	

1 –	2 –	3 –	4 –
-----	-----	-----	-----

IV.	Выберыце правільны варыянт адказу За кожны правільны адказ – 2 балы		
51. Ці праўда, што: 1) У другой палове XIII–пачатку XVI ст. у архітэктуры Беларусі пераважаў стыль барока 2) На культуру Беларусі XVI ст. не паўплывалі ідэі Рэнесанса. а) дакладна 1 б) дакладна 2 в) дакладна 1 і 2 г) не дакладна 1 і 2	52. Ці праўда, што: 1) вялікі князь Ягайла быў жанаты з князёўнай Соф’яй Гальшанскай 2) вялікі князь Ягайла быў жанаты на дачцы апошняга віцебскага князя з рода Рурыкавічаў – Марыі Яраслаўне а) дакладна 1 б) дакладна 2 в) дакладна 1 і 2 г) не дакладна 1 і 2	53. Ці праўда, што: 1) У Афінах у 128 г. н.э. быў пабудаваны Пантэон. 2) У Александрыі існаваў Музейон. а) дакладна 1 б) дакладна 2 в) дакладна 1 і 2 г) не дакладна 1 і 2	54. Ці праўда, што: Найбольш буйным прадпрыемствам па вытворчасці папіросаў на тэрыторыі Беларусі была фабрыка 1) заснаваная купцом Лейбам Шарашэўскім у 1861 г. 2) дзейнічала ў Гародні а) дакладна 1 б) дакладна 2 в) дакладна 1 і 2 г) не дакладна 1 і 2
51.	52.	53.	54.

V.	Напішыце, якому паняццю даецца вызначэнне За кожны правільны адказ – 1 бал	
55.	збыднелыя сяляне, якія бралі ў феодала грашовую пазыку («купу») і павінны былі працаваць на яго гаспадарцы за «купу», пакуль не вярнуць грошы	
56.	народны сход, орган дзяржаўнай улады (разам з князем) у асобных княствах Кіеўскай Русі	
57.	тып гаспадаркі, пры якой усё, што выраблялася людзьмі, спажывалася імі ж у межах гэтай жа гаспадаркі.	
58.	сяляне, якія ў XI–XII ст. былі па нейкіх прычынах выгнаны з абшчыны, засталіся без зямлі і былі вымушаны пайсці ў залежнасць да феодала	
59.	Цырымонія, суправаджаўшая заключэнне васальнай дамовы ў сярэднявечнай Еўропе	
60.	сяляне, якія знаходзіліся ў залежнасці ад феодала ў адпаведнасці з дамовай («радам»)	
61.	сістэма юрыдычных норм, якія замацоўвалі пазямельную, судовую і асабістую	

	(пазаэканамічны прымус) залежнасць сялян ад феодалаў і дзяржавы.	
62.	аб’яднанне рамеснікаў адной або сумежных спецыяльнасцяў у сярэднявечных гарадах для абароны сваіх прафесійных інтарэсаў.	

VI Размяркуйце з дапамогай стрэлак

8 балаў за выкананне частак 63 і 64 без памылак

63) падзеі, што адносяцца да дзейнасці вялікіх князяў літоўскіх

Вітаўт	Атрымаў паразу ў бітве пад Ворсклай у 1399 г.	Ягайла
	Ажаніўся з польскай каралевай Ядвігай	
	У 1401 г. пайшоў на аднаўленне саюза з Польшчай.	
	Прыняў у ВКЛ татарскага хана Тахтамыша, які ўцёк з Залатой Арды	
	Паводле ўмоў Крэўскай уніі прыняў каталіцтва і стаў каралём Польшчы Уладзіславам II	
	Кіраваў узброенымі сіламі ВКЛ падчас Грунвальдскай бітвы	
	У 1420 годзе чэхі прапанавалі яму карону Багеміі, але згодна з парадай савета ён адмовіўся	
	Трапіў у палон да малодшага брата, калі прыехаў прымаць ад яго васальную клятву	

64) падзеі рэвалюцый ў Францыі 1830 і 1848 гадоў

Другая Французская рэвалюцыя (1830 г.)	Вынікам рэвалюцыі стала ўстанаўленне ліберальнага рэжыму ў Францыі і ўрачыстасць буржуазіі над зямельнай арыстакратыяй	Рэвалюцыя 1848 года ў Францыі
	Прэзідэнтам Францыі стаў Луі-Напалеон Банапарт	
	Згодна з абноўленай Хартыяй, была абвешчана свабода слова без усялякіх абмежаванняў, былі пашыраны кампетэнцыі Парламента, які з гэтага часу меў	

		права заканадаўчай ініцыятывы		
		Было ўведзена ўсеагульнае выбарчае права для мужчын		
		Афіцыйным сцягам Францыі становіцца трыкалор		
		Рэвалюцыйныя падзеі ў Францыі прывялі да ўздыму ліберальных паўстанняў у іншых краінах Еўропы, т.зв. "Вясне народаў"		
		Вынікам стала звяржэнне Карла X і ўзвядзенне на прастол Луі-Філіпа, герцага Арлеанскага		
		У выніку гэтай рэвалюцыі была абвешчана Другая Французская рэспубліка		

VII.		Адзначце “птушачкай” у адпаведным месцы, якая падзея адбылася раней (за кожны правільны адказ – 1 бал)			
Гісторыя Беларусі			Сусветная гісторыя		
65.		Узнікненне епархіі ў Полацку	ці		Пачатак каланізацыі Грэнландыі
66.		Разгром Альгердам мангола-татар на рацэ Сінія Воды.	ці		Бітва на Косавым полі паміж сербскім і і асманскім войскамі
67.		Грунвальдская бітва	ці		Бітва пры Азенкуры паміж Англіяй і Францыяй
68.		Выданне Францыскам Скарынай першай друкаванай кнігі – “Псалтыра”	ці		Марцін Лютэр абнародваў тэкст з 95 тэзісамі пра індульгенцыі
69.		Падпісанне Берасцейскай царкоўнай уніі	ці		Варфаламееўская ноч у Францыі
70.		«Нямы» сойм у Варшаве	ці		Ніштацкі мір
71.		Прыняцце Канстытуцыі Рэчы Паспалітай	ці		Указ аб вольных хлебапашцах Александра I
72.		Падпісанне БССР мірных дагавораў з Балгарыяй, Венгрыяй, Румыніяй і Фінляндыяй	ці		Стварэнне НАТА


73.		Аварыя на Чарнобыльскай АЭС	ці		Пачатак прэзідэнцтва Рональда Рэйгана ў ЗША
74.		Наданне статусу канстытуцыйнага закона Дэкларацыі аб дзяржаўным суверэнітэце БССР	ці		Падпісанне дагавора аб стварэнні Еўрапейскага Саюза

VIII.	Падбярыце агульнае паняцце да прапанаваных элементаў				
	За кожны правільны адказ – 1 бал				
75.	Бернардзінскі, іезуітаў, піяраў				
76.	Рагвалодаў, Барысаў, межавы				
77.	Стогадовая, Сямігадовая, грамадзянская				
78.	Рымская, Свяшчэнная, Візантыйская				
79.	Чума, халера, іспанка				
80.	Агінскага, Аўгустоўскі, Дняпра-Бугскі				
81.	Лібава-Роменская, Пецябурска-Варшаўская, Дынабургска-Віцебская				
82.	Варшаўская, Грунвальдская, народаў				
83.	Тыльзіцкі, Ям-Запольскі, “вечны”				
84.	Дропшот, Чарыяцір, Флітвуд				

IX.	Расшыфруйце абрэвіятуры				
	(кожны правільны адказ – 1 бал)				
85.	ШАС				
86.	АДКБ				
87.	АСЕАН				
88.	СНД				
89.	ЕўрАзЭС				

X.	Напішыце, якія гістарычныя падзеі адлюстраваны на карцінах і ў якім годзе яны адбыліся
-----------	---

Кожны поўны адказ – 2 балы (1 бал – падзея, 1 бал – год)




90.



91.



92.



93.

Трэці этап рэспубліканскай алімпіяды па вучэбным прадметам
“Гісторыя Беларусі” і “Сусветная гісторыя”
2020-2021 навучальны год



94.



95.



96.



97.



98.



99.