

11 клас



2 тур



Максімальная колькасць балаў – 137.

I. Выберыце адзін правільны варыянт адказу	
За кожны правільны адказ – 1 бал, 30 балаў	
Гісторыя Беларусі	Сусветная гісторыя
<ol style="list-style-type: none">1. в. паляне2. г. Спаскай3. в. Ворскле4. б. М. Глінскі5. б. Барока6. б. Падзвіння7. в. сфрагістыка8. г. Я. Баршчэўскі9. б. судовая10. б. Мінску11. г. Другой Устаўной грамаце12. б. Вярхоўны Савет БССР13. г. С. Куцепаў14. в. А. Кішчанка15. б. 27 ліпеня 1990 г.	<ol style="list-style-type: none">16. б. Іспаніі17. в. Кале18. г. у Венрыі для барацьбы з туркамі19. б. Франсіска Пісара20. в. класіцызм21. б. судовая рэформа22. в. пачатак XX ст.23. в. у 1908 г.24. а. 3 студзеня 1868 г.25. б. Джозэф Рэд’ярд Кіплінг26. б. Албанія27. б. дактрына Брэжнева28. б. 1958 г.29. а. тэрытарыяльны30. в. Л. Качыньскі

II. Правільна суаднясіце элементы дзвух мностваў
За кожны поўны правільны адказ – 2 балы, 20 балаў

31) выяву горада аўтарства Наполеона Орды і назву горада

	
А.	Б.

			
В.	Г.		
1. Лагойск – Б	2. Гродна – А	3. Магілёў – Г	4. Камянец – В.

32) партрэтныя выявы і імёны расійскіх імператрыц

			
А.	Б.	В.	Г.
1. Кацярына II – В	2. Кацярына I – Г	3. Елізавета Пятроўна – А	4. Ганна Іааннаўна – Б





33) пісьменніка і яго твор

1.	Эрых Марыя Рэмарк	А.	Па кім зvonіць зvon
2.	Томас Ман	Б.	Пахаджэнні бравага ваякі Швейка
3.	Эрнэст Хэмінгуэй	В.	На Заходнім фронце без зменаў
4.	Яраслаў Гашэк	Г.	Цудоўная гара
1. – В	2. – Г	3. – А	4. – Б

34) помнікі дойлідства і дзяржаўныя ўтварэнні

			
А.	Б.	В.	Г.
1. Расія – Г	2. Турцыя – А	3. Беларусь – Б	4. Індыя – В

35) выявы гербаў гарадоў Беларусі і іх назвы

			
А.	Б.	В.	Г.
1. Гарадок – Б	2. Пружаны – А	3. Расоны – Г	4. Мёры – В





36) гістарычны тэрмін і яго вызначэнне

1. у Расіі ў XIX ст. выхадцы з розных саслоўяў, якія займаліся пераважна разумовай працай.	А. Славянафілы		
2. плынь у рускай грамадскай думцы, якая адстойвала самабытны шлях развіцця Расіі, адрозны ад шляху заходніх краін.	Б. Заходнікі		
3. прадстаўнікі разначыннай інтэлігенцыі ў Расіі ў другой палове XIX ст., якія выступалі супраць прыгону і самадзяржаўя. Верылі ў магчымасць развіцця Расіі па некапіталістычным шляху і ў сялянства як носбіта сацыялістычных адносін.	В. Разначынцы		
4. плынь у рускай грамадскай думцы, якая адстойвае шлях развіцця заходняй цывілізацыі	Г. Народнікі		
1. – В	2. – А	3. – Г	4. – Б

37) выяву генерала часоў Грамадзянскай вайны ў Расіі і яго прозвішча

			
А.	Б.	В.	Г.
1. Красноў П. – Б	2. Юдзеніч М. – Г.	3. Дзянікін А. – А	4. Врангель П. – В.

38) герб і шляхецкі род Вялікага Княства Літоўскага, якому герб належаў

			
А.	Б.	В.	Г.
1. Радзівілы – В	2. Храптовічы – А	3. Пацы – Г	4. Тышкевічы – Б

39) беларускіх кнігадрукароў на парадку іх дзейнасці

А. Пётр Мсціславец 1566	В. Францыск Скарына
Б. Кузьма Мамоніч	Г. Спірыдон Собаль
1. – В	2. – А
3. – Б	4. – Г

40) міжнародныя арганізацыі постсавецкай прасторы на часе іх стварэння

А. ГУАМ	В. ЕАЭС
Б. ЕўрАзЭС	Г. СНД
1. – Г	2. – А
3. – Б	4. – В

III. Расстаўце ў правільнай храналагічнай паслядоўнасці

За кожны поўны правільны адказ – 2 балы, усяго за заданне – 20 балаў

41) падзеі грэка-персідскіх войнаў

А. Марафонская бітва 490 г. до н.э.		Б. Фермапільская бітва 480 г. до н.э.	
В. паход Мардонія 492 г. до н.э.		Г. бітва пры Платэях 479 г. до н.э.	
1. – В	2. – А	3. – Б	4. – Г

42) каралёў Рэчы Паспалітай на часе кіравання

А. Міхал Вішнявецкі		Б. Станіслаў Ляшчынскі	
В. Ян III Сабескі		Г. Ян Казімір Ваза	
1. – Г	2. – А	3. – В	4. – Б

43) гарады Беларусі згодна з годам атрымання імі Магдэбургскага права

А. Берасце 1390		Б. Магілёў 1577	
В. Дзісна 1569		Г. Пінск 1581	
1. – А	2. – В	3. – Б	4. – Г

44) падзеі гісторыі гусіцкага руху

А. перамога гусітаў пад Вышаградам 1420		Б. Спаленне Яна Гуса 1415	
В. бітва пад Ліпанамі 1434		Г. Паўстанне ў Празе 1419	
1. – Б	2. – Г	3. – А	4. – В

45) шведскія дынастыі на часу праўлення ад самай ранняй да найбольш позняй

А. дынастыя Бернадотаў		В. Гесэнская дынастыя	
Б. дынастыя Вазаў		Г. дынастыя Фолькунгаў	
1. – Г	2. – Б	3. – В	4. – А

46) падзеі гісторыі культуры БССР

А. адкрыццё Беларускай Акадэміі навук		В. адкрыццё кінастуды мастацкіх фільмаў “Савецкая Беларусь”	
Б. адкрыццё Беларускай дзяржаўнай кансерваторыі		Г. пастаноўка першай беларускай савецкай оперы	
1. – Г	2. – В	3. – А	4. – Б

47) ваенна-палітычныя блокі краін XIX ст. ад самага ранняга да найбольш позняга

А. Саюз трох імператараў 1873		В. Чацвярны саюз 1834	
Б. Траісты саюз 1883		Г. Свяшчэнны саюз 1815	
1. – Г	2. – В	3. – А	4. – Б





48) падзеі Першай рускай рэвалюцыі ў 1905–1907 гг.

А. Выбары ў Першую дзяржаўную думу	В. Снежаньскае паўстанне		
Б. заснаванне Дзяржаўнай Думы як законарадачага органа пры манарху – 6.08.1905	Г. паўстанне каманды браняносца “Пацёмкін” – 14.06.1905		
1. – Г	2. – Б	3. – В	4. – А

49) падзеі гісторыі Беларусі пачатку 1990-х гг.

А. вывад з тэрыторыі Беларусі тактычнай ядзернай зброі	В. прыняцце Канстытуцыі Рэспублікі Беларусь		
Б. стварэнне Садружнасці Незалежных Дзяржаў	Г. прыняцце Вярхоўным Саветам БССР Дэкларацыі аб дзяржаўным суверэнітэце Беларускай ССР		
1. – Г	2. – Б	3. – А	4. – В

50) генеральных сакратароў ЦК КПСС на часе іх знаходжання на пасадзе

А. 	Б. 	В. 	Г. 
1. М. С. Хрушчоў – Г	2. Л. І. Брэжнеў – А	3. Ю. У. Андропай – Б	4. М. С. Гарбачоў – В

IV.	Выберыце правільны варыянт адказу (пастаўце птушачку ў адпаведным стаўбцы) За кожны правільны адказ – 1 бал, усяго за заданне – 10 балаў		
	Ці праўда, што:	так	не
51.	У 1458 г. адбылося стварэнне самастойнай праваслаўнай мітраполіі ў ВКЛ	так	
52.	На землях Вялікага Княства Літоўскага ў першай палове XVI ст. існаваў манаскі ордэн базыльянцаў		не
53.	Першай кнігай на тэрыторыі сучаснай Беларусі, выдадзенай кірылічным шрыфтам, быў “Апостал” Ф. Скарыны		не

54.	Арміяй канфедэратаў у Грамадзянскай вайне ў ЗША камандаваў генерал Роберт Эдвард Лі	так	
55.	Першай расійскай марксісцкай арганізацыяй была група “Вызваленне працы”, створаная Г. В. Пляханавым у 1883 г. у Жэневе.	так	
56.	I Усебеларускі з’езд быў разогнаны 17 снежня 1917 г. нямецкімі ўладамі		не
57.	Першым рэктарам Беларускага дзяржаўнага ўніверсітэта быў У. Пічэта	так	
58.	Парад войск Чырвонай арміі на Чырвонай плошчы ў Маскве 24 чэрвеня 1945 года прымаў маршал Канстанцін Ракасоўскі		не
59.	Запуск першага штучнага спадарожніка Зямлі адбыўся ў СССР 4 кастрычніка 1957 г.	так	
60.	У 2010 г. уступіў у сілу дагавор, падпісаны ў горадзе Кіёта (Японія), згодна яму для кожнай дзяржавы вызначаюцца гранічна дапушчальныя нормы выкіду вуглякіслага газу ў атмасферу.		не

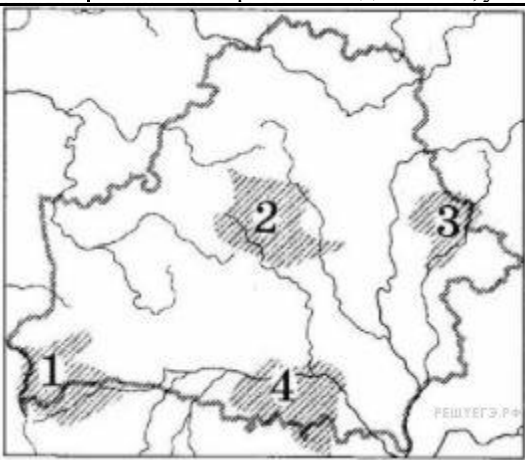
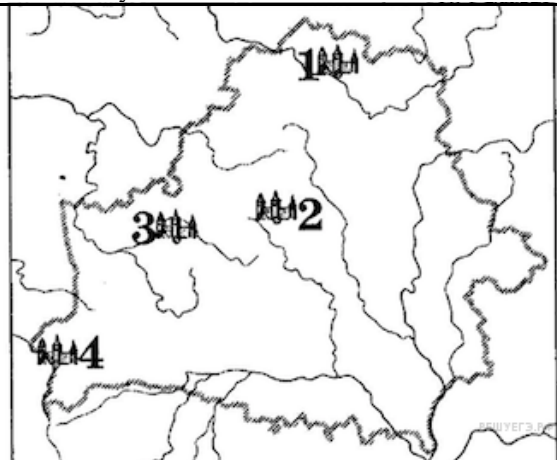
V.	Напішыце у правым стаўбцы паняцці, адпаведныя кожнаму азначэнню		
Азначэнні аднаслоўныя, за кожны правільны адказ – 1 бал, усяго за заданне – 10 балаў			
61.	паслядоўнікі пратэстанцкай плыні ў Англіі ў XVI–XVII стст., якія пры трымлі валі ся вельмі строгай веры і простаі (чыстай) царкоўнай службы.	пурытане	
62.	палітыка дзяржавы, накіраваная на абарону нацыянальнай эканомікі ад замежнай канкурэнцыі шляхам увядзення высокіх пошлін на тавары, якія ўвозяцца ў краіну.	пратэкцыянізм	
63.	неабмежаваная ўлада, якая забяспечвае поўнае панаванне той ці іншай асобы, групы, класа.	дыктатура	
64.	шырокі ідэйны рух у розных краінах Еўропы, звязаны з барацьбой супраць феадальных адносін, за ўсталяванне “царства Розуму”, заснаванага на “натуральным праве” людзей і	Асветніцтва	


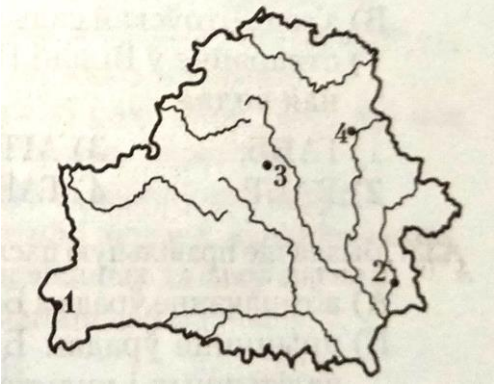
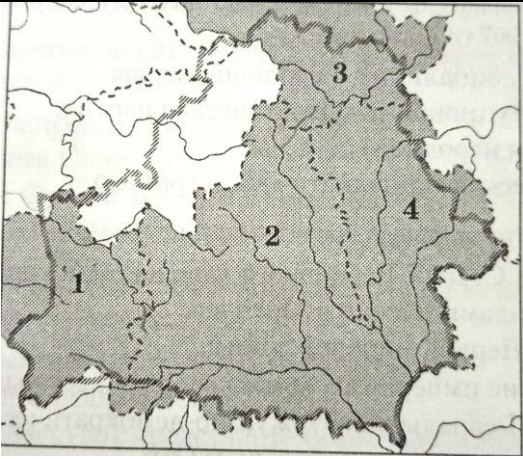
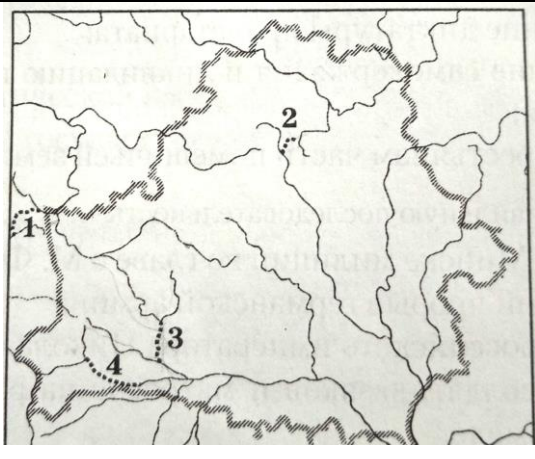
	палітыч най свабодзе.	
65.	афіцыйная палітыка расавай сэгрэгацыі і дыскрымінацыі, якая праводзілася правячай у ПАР з 1948 па 1994 г. Нацыянальнай партыяй.	апартэід
66.	форма дзяржаўнага кіравання, пры якой улада засяроджана ў руках духавенства ці кіраўніка царквы.	тэакратыя
67.	рух у грамадскім жыцці ЗША з канца 1940-х да канца 1950-х гг., які суправаджаўся абвастрэннем антыкамуністычных настрояў і палітычнымі рэпрэсіямі супраць іншадумцаў.	макартызм
68.	члены створаных у 1966 г. атрадаў студэнцкай і школьнай моладзі ў Кітаі, адны з найбольш актыўных удзельнікаў “культурнай рэвалюцыі”.	хунвэйбіны
69.	працэс ліквідацыі наступстваў культу асобы і сталінскай палітычнай сістэмы, які праводзіўся ў СССР у другой палове 1950-х — пачатку 1960-х гг.	дэсталінізацыя
70.	комплекснае, сістэмнае, нарастаўчае адзінства сучаснага свету, абумоўленае неабходнасцю вырашэння эканамічных і іншых сусветных праблем (экалагічная, дэмаграфічная праблема, пераадоленне эканамічнай і культурнай адсталасці, асваенне калязямной прасторы, вырашэнне энергетычнага, сыравіннага, харчовага і іншых крызісаў), уключаючы захаванне сацыяльных, эканамічных і індывідуальных правоў і свабод асобы.	глабалізацыя

VI.	Адзначце “птушачкай” у адпаведным месцы, якая падзея адбылася раней (за кожны правільны адказ – 2 балы, усяго за заданне 20 балаў)				
71.	тут	Бітва ў Тэўтабургскім лесе	ці		Асада Іерусаліма арміяй Ціта
72.	тут	Востраўскае пагадненне	ці		Салінскае пагадненне
73.		Завяршэнне Рэканкісты ў Іспаніі	ці	тут	Захоп туркамі-асманамі Канстантынопаля
74.	тут	“Хаджэнне ў народ”	ці		І з’езд Расійскай сацыял-дэмакратычнай рабочай партыі (РСДРП).

75.		Першае камп’ёнскае перамір’е	ці	тут	Брэсцкі мір
76.	тут	Курская бітва	ці		Бітва за Івадзіму
77.	тут	Карыбскі крызіс	ці		“Пражская вясна”
78.		Ісламская рэвалюцыя ў Іране	ці	тут	Ваенны пераварот у Чылі
79.	тут	Абвясчэнне суверэнітэту РСФСР	ці		Аб’яднанне Германіі
80.	тут	Падпісанне Дагавора аб стварэнні Супольніцтва Рэспублікі Беларусь і Расійскай Федэрацыі	ці		Падпісанне дагавора паміж Беларуссю і Расіяй аб стварэнні Саюзнай дзяржавы

VII.	Вызначце, да якіх краін адносяцца ўказанныя ніжэй гістарычныя з’явы, сацыяльныя групы, палітычныя суполкі і рухі	
	За кожны правільны адказ – 1 бал, усяго за заданне – 9 балаў	
81.	Санацыя	Польшча
82.	Апартэід	Паўднёва-Афрыканская рэспубліка
83.	Разначынцы	Расійская імперыя
84.	Трэд-юніёны	Вялікабрытанія
85.	Юнкеры (землеўладальнікі)	Прусія
86.	Хунвейбіны	Кітай
87.	“Новыя асманы”	Асманская імперыя
88.	Сёгунат	Японія
89.	Якабінцы	Францыя

VIII.	Адкажыце на пытанні да карт-схем	
	За кожны правільны адказ 1 бал, усяго за заданне – 6 балаў	
90.		
	Тэрыторыя староства, у якім у маі 1740 г. пачалося паўстанне пад кіраўніцтвам В. Вашчылы, пазначана лічбай: 3	Горад, у якім у 1550–1570-х гг. дзейнічала першая у межах сучаснай тэрыторыі Беларусі тыпаграфія, пазначаны лічбай: 4

 <p>92.</p>	 <p>93.</p>
<p>Дзяржава Маньчжоу-Го, падначаленая Японіі, была створана на тэрыторыі, якая пазначана лічбай: 2</p>	<p>Горад, дзе ў 1941 г. быў створаны агульнагарадскі падпольны гарком КП(б)Б, які ўзначаліў І.К. Кавалёў, пазначаны лічбай: 3</p>
 <p>94.</p>	 <p>95.</p>
<p>Любавіцкі кірмаш у першай палове XIX стагоддзя быў найбольш буйным кірмашом у губерні, пазначанай лічбай: 4</p>	<p>Бярэзінскі канал, будаўніцтва якога было скончана ў пачатку XIX стагоддзя, пазначаны лічбай: 2</p>


X. Напішыце, падзеі якіх войнаў намаляваны на ніжэйпрыведзеных рэпрадукцыях карцін

Кожны поўны адказ – 2 балы (1 бал – вайна, 1 бал – год). Усяго за заданне – 12 балаў

	
<p>96. Айчынная вайна 1812 г. (Пераправа Напалеона праз Бярэзіну, 26-29.11.1812 г.)</p>	<p>97. Паўночная вайна, 1700–1721 гг. (Бітва пад Нарвай, 19.11.1700.)</p>




98. Першая сусветная вайна, 1914–1918 г.



99. Трыццацігадовая вайна, 1618-1648 г. (намалявана Бітва пры Ракруа).



100. Лівонская вайна, 1558–1583 г. (Асада Пскова Стэфанам Баторыям)



101. Франка-пруская вайна, 1870–1871 г. (Абарона бармы Ланбо ў бітве каля замку Бузенваль 21.10.1870 г.)