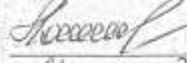


УТВЕРЖДАЮ

Первый заместитель начальника главного
управления по образованию
Могилевского облисполкома



И.Г. Лошкевич

« 21 » марта 2022 г.

ЗАДАНИЯ

для проведения городских, районных олимпиад
по учебным предметам «Всемирная история», «История Беларуси»

Дата проведения: 30.03.2022 г.

Время выполнения заданий: 10.00 – 13.00

VIII класс

I. ВЫБЕРИТЕ ПРАВИЛЬНЫЙ ОТВЕТ:

1. Под каким названием известен данный тип городского общественного транспорта?



а) конка б) монгольфьер в) омнибус г) локомотив

2. Какое слово необходимо вставить вместо слова «пропуск» на российском плакате 1914 года?



А) немецкую Б) австро-венгерскую В) турецкую Г) полонезскую

3. Первые фабрики появились на Беларуси: а) в Витебске, б) в Гродно, в) в местечке Косово, г) в местечке Хомск.
4. Кто является автором первого сборника белорусской фантастики: а) Павлюк Баграм, б) Владимир Сырокомля, в) Ян Боршевский
5. Земская реформа была проведена на Беларуси: а) 1864; б) 1911; в) не проводилась вообще.
6. В июле 1708 г. Могилев был занят шведскими войсками, которые разграбили город, а в сентябре того же года он был разрушен и сожжен по приказу: а) Карла XII; б) Петра I; в) Б. П. Шереметьева; г) А. Левенгаупта
7. Берлинская международная конференция по разделу Африки состоялась в: а) 1684г., б) 1784г., в) 1884г.
8. Поединок Пересвета с Челубеем произошел в: а) 1242 г. на льду Чудского озера; б) 1380 г. на Куликовом поле; в) 1389 г. на Косовом поле; г) 1453 г. у стен Константинополя
9. Основателем русской классической музыки является: а) В.Сырокомля; б) М.Глинка; в) П.Чайковский
10. Город, который первым на территории Беларуси получил Магдебургское право: А) Полоцк Б) Гродно В) Берестье Г) Минск

II. СООТНЕСИТЕ

11. События и их даты:

1	Ливонская война	А	1701 – 1714 гг.
2	Семилетняя война	Б	1558 – 1583 гг.
3	Северная война	В	1775 – 1783 гг.
4	Война за испанское наследство	Г	1618 – 1648 гг.
5	Война за независимость английских колоний в Северной Америке	Д	1756 – 1763 гг.
6	Тридцатилетняя война	Е	1700 – 1721 гг.

2

1	2	3	4	5	6
---	---	---	---	---	---

12. Имена авторов и их произведения:

1	Л.Толстой	а	“Братья Карамазовы”
2	Ф.Достоевский	б	“Три сестры”
3	А.Чехов	в	“Мцыри”
4	М.Лермонтов	г	“Война и мир”

1.	2.	3.	4.
----	----	----	----

13. События и имя политического деятеля:





1	Битва под Клецком	а	Ольгерд
2	Первая точная карта ВКЛ	б	Николай Радзивил Чёрный
3	Битва на р. Синие воды	в	Томаш Маковский
4	Первая типография на землях Беларуси	г	М.Глинский

14. *Дату и событие:*

1	1596	а	Создание в Прибалтике Ордена меченосцев
2	1861	б	Провозглашение Бразилии республикой
3	1202	в	Брестская церковная уния
4	1889	г	Создание единого Итальянского королевства

1.	2.	3.	4.
----	----	----	----





15. *Исторических деятелей с их портретными изображениями:*

			
А	Б	В	Г

1. Николай I; 2. Дж. Байрон; 3. В. Либкнехт ; 4. И.А.Гошкевич .

1.	2.	3.	4.
----	----	----	----

16. *Фотографии памятников известным историческим личностям Беларуси с их фамилиями*

			
А.	Б.	В.	Г.

1. Наполеон Орда; 2. Франтишек Богушевич;
3. Язеп Дроздович; 4. Якуб Колас.

1 –	2 –	3 –	4 –
-----	-----	-----	-----

17. *Памятники архитектуры с городами, в которых они расположены:*

			
А.	Б.	В.	Г.
1. Коссово	2. Могилев	3. Кричев	4. Гомель

1 -	2 -	3 -	4 -
-----	-----	-----	-----

III. РАССТАВЬТЕ В ПРАВИЛЬНОЙ ХРОНОЛОГИЧЕСКОЙ ПОСЛЕДОВАТЕЛЬНОСТИ:

18. Расположите в хронологической последовательности события конца XVIII-XIX вв.:

- а) Морозовская стачка б) оборона Севастополя в) сражение на р. Березине
г) Тильзитский мирный договор 1. ___ 2. ___ 3. ___ 4. ___.

19. События истории Беларуси XIX века:

- А) Восстание под руководством К. Калиновского; Б) Отмена действия Статута ВКЛ 1588 г. в Минской, Гродненской и Виленской губерниях; В) Создание Горы-Горецкого земледельческого института; Г) Присоединение униатской церкви к 4 православной на территории Беларуси.

1. ___ 2. ___ 3. ___ 4. ___.

20. События первой мировой войны на Беларуси:

- А) Святянский прорыв; Б) Февральская революция; В) газовая атака под Сморгонью; Г) перевод Ставки верховного главнокомандующего в Могилев.

1. ___ 2. ___ 3. ___ 4. ___.

IV. ВПИШИТЕ ПРАВИЛЬНЫЙ ОТВЕТ:

А

1.	Вывоз товаров или капиталов за границу	
2.	Приверженец реформации во Франции	
3.	Класс капиталистического общества, обладающий собственностью на средства производства.	
4.	материал для письма у народов, проживавших на территории полуострова Индостан.	<i>Всета. Каминь наль. мотья, дорелки</i>

Б) Укажите автора

1	"У нас нет дворян, у нас все равны"	
2	Не оставляйте же языка нашего белорусского, чтобы не умерли	

3	Я поручаю своему другу Томасу Джефферсону полностью использовать это имущество на выкуп негров .. на прощение им свободы от моего имени	
4	Георгий один из добропамятных мужей прошлого века	

V. ВСТАВЬТЕ В ТАБЛИЦУ ПРОПУЩЕННЫЕ ЭЛЕМЕНТЫ:

Для этого соотнесите пропуски и предложенные варианты заполнения.

Выберите правильный вариант соотнесения. Напишите название страны, где действовал данный документ.



А) Сенат; Б) Конгресс; В) Исполнительная власть; Г) Законодательная власть.


А) 1Г2В3Б4А


Б) 1Г2В3А4Б

В) 1В2Г3Б4А

Г) 1В2Г3А4Б

VI. Назовите авторов и название картин:





VII. A

Прочти цитаты об историческом деятеле. К какому из событий, изображённых на картинках, он имеет прямое отношение?

Он оттого так богат, что всегда продавал всех тех, кто его покупал.

Лицо столь непроницаемо, что совершенно невозможно понять его. Если он разговаривает с Ватли, а в это время кто-нибудь сзади даёт ему пинка, то по его лицу Вы не догадаетесь об этом.

Никогда это сердце не испытывало жара благородного деяния, никогда честная мысль не проходила через эту трудолюбивую голову; этот человек – исключение в природе, он – такая редкостная чудовищность, что род человеческий, презирая его, всё-таки созерцал его с злутым восхищением.



Б)



1. Какие территории отмечены на карте цифрами 1, 2, 3

2. Что отмечено специальным знаком. Чем отличались эти образования.

VIII. НАПИШИТЕ, С ИСТОРИЕЙ КАКОЙ СТРАНЫ СВЯЗАНЫ ПРИВЕДЕННЫЕ НИЖЕ СОБЫТИЯ ИЛИ ПОНЯТИЯ.

1.	Реставрация Бурбонов	
2.	чартизм	
3.	Золотая лихорадка	
4.	декабристы	
5.	бусидо	
6.	тайпины	
7.	сипай	
8.	янычары	

IX. Внимательно прочитайте текст и найдите в нем ошибки. Подчеркните неверные даты, слова и выражения. После текста напишите правильные варианты.

12 июня 1812 г. «Великая армада» Наполеона (640 тысяч человек), переправившись через Днепр, вторглась в пределы России. Русская армия насчитывала 590 тысяч человек, но выставить оказалось возможным не более 200 тысяч. Русские войска были разделены на 3 отдельные армии: одна под командованием М. Б. Барклай-де-Толли, другая – П. И. Багратиона, третья – М. И. Кутузова. Французская армия продвигалась очень быстро, а российская армия вынуждена была отступать для того, чтобы соединить разрозненные силы. Численные превосходства противника ставило вопрос о срочном пополнении войск. Однако принцип рекрутской комплектации армии давал медленные результаты. И Александр I решился на необычный шаг: 6 июля он издал манифест о введении в стране всеобщей воинской обязанности. Русские армии смогли соединиться только под Калугой в конце июля. Общее руководство взял на себя Барклай-де-Толли, занимавший в то время пост военного министра. Хороший стратег и мужественный воин, он был молчалив, замкнут. В армии его не любили. Начались разногласия с генералами, прежде всего с Багратионом. Эти споры считают главной причиной того, что Калугу не сумели удержать. В этой ситуации Александр I решил назначить главнокомандующим М. И. Кутузова, который прибыл в ставку армии, расположенную в Цареве Займище, 17 сентября. И сразу же началась подготовка к генеральному сражению.

КЛЮЧИ К тесту

I. ВЫБЕРИТЕ ПРАВИЛЬНЫЙ ОТВЕТ: 10 баллов

1в; 2в; 3в; 4в; 5б; 6б; 7в; 8б; 9б; 10в;

II. СООТНЕСИТЕ

11. События и их даты: 6 баллов

1	б	2 д	3 е	4 а	5 в	6 г
---	---	-----	-----	-----	-----	-----

12. Имена авторов и их произведения: 4 балла

1 г	2 а	3 б	4 в
-----	-----	-----	-----

13. События и политического деятеля: 4 балла

1 г	2 в	3 в	4 б
-----	-----	-----	-----

14. Дату и событие: 4 балла

1 в	2 г	3 а	4 б
-----	-----	-----	-----

15. Исторических деятелей с их портретными изображениями: 4 балла

1	г	2 а	3 в	4 б
---	---	-----	-----	-----

16. Фотографии памятников известным историческим личностям Беларуси с их фамилиями: 4 балла

1	г	2 б	3 а	4 в
---	---	-----	-----	-----

17. Памятники архитектуры с городами, в которых они расположены: 4 балла

1	г	2 в	3 б	4 а
---	---	-----	-----	-----

III. РАССТАВЬТЕ В ПРАВИЛЬНОЙ ХРОНОЛОГИЧЕСКОЙ ПОСЛЕДОВАТЕЛЬНОСТИ:

18. Расположите в хронологической последовательности события конца XVIII-XIX вв.: 1г; 2в; 3б;

4а. 4 балла

19. События истории Беларуси XIX века:

1г; 2б; 3в; 4а. 4 балла

20. События первой мировой войны на Беларуси:

1г; 2а; 3в; 4б. 4 балла

IV. ВПИШИТЕ ПРАВИЛЬНЫЙ ОТВЕТ:

А 4 балла

1.	Вывоз товаров или капиталов за границу	экспорт
2.	Приверженец реформации во Франции	гугенот
3.	Класс капиталистического общества, обладающий собственностью на средства производства	Буржуазия или капиталист
4.	материал для письма у народов, проживавших на территории полуострова Индостан	санскрит

Б) Укажите автора 4 балла

1	"У нас нет дворян, у нас все равны"	К.Калиновский
2	Не оставляйте же языка нашего белорусского, чтобы не умерли	Ф.Богушевич
3	Я поручаю своему другу Томасу Джефферсону полностью использовать это имущество на выкуп негров ... на прощение им свободы от моего имени	Тадеуш Костюшко
4	Георгий один из добропамятных мужей прошлого века	А.Пушкин

V. ВСТАВЬТЕ В ТАБЛИЦУ ПРОПУЩЕННЫЕ ЭЛЕМЕНТЫ:

A) ИТ2В3Б4А 4 балла

VI. Назовите авторов и название картины: 10 баллов

1. Тридцать шесть видов Фудзи (Хокусай) Кацусики Хокусая	2. Легкий бриз У Хомер	3. «Збентики» — Пьер Огюст Ренуар
4. Н. Сильванович Пастух	5. Я. Домель Портрет графа И. Хрептовича	

VII. Прочти цитаты об историческом деятеле. К какому из событий, изображенных на картинках, он имеет прямое отношение?

A ответ цифра 1 Французская революция имя Талейран 2 балла

Б Соответствующими цифрами указаны территории, присоединенные к Российской империи по первому (3), второму (2) и третьему (1) разделам Речи Посполитой. 3 балла +2 балла за объяснение = 5 баллов

Специальным знаком отмечены места образования шляхетских конфедераций: Торуньской (1767), Слудской (1767), Барской (1768) и Тарговицкой (1792). Торуньская и Слудская конфедерации были созданы в поддержку прав «диссидентов» – шляхты не католического вероисповедания (православных, кальвинистов и лютеран). 4 балла + 2 балла за объяснение = 6 баллов

По 1 баллу за название территории и конфедераций - 6 б. 2 б за объяснение

VIII. НАПИШИТЕ, С ИСТОРИЕЙ КАКОЙ СТРАНЫ СВЯЗАНЫ ПРИВЕДЕННЫЕ НИЖЕ СОБЫТИЯ ИЛИ ПОНЯТИЯ. 8 баллов

IX.	1.	Реставрация Бурбонов	Франция
	2.	чартизм	Англия
	3.	Золотая лихорадка	США
	4.	декабристы	Россия
	5.	бусидо	Япония
	6.	тайпины	Китай
	7.	сипаи	Индия
	8.	янычары	Османская империя

Внимательно прочитайте текст и найдите в нем ошибки. Подчеркните неверные даты, слова и выражения. После текста напишите правильные варианты. 14 баллов

12 июня 1812 г. «Великая армада» («Великая армия») Наполеона (640 тысяч человек), переправившись через Днепр (Неман), вторглась в пределы России. Русская армия насчитывала 590 тысяч человек, но выставить оказалось возможным не более 200 тысяч. Русские войска были разделены на 3 отдельные армии: одна под командованием М. Б. Барклая-де-Толли, другая – П. И. Багратиона, третья – М. И. Кутузова (А.П.Тормасова). Французская армия продвигалась очень быстро, а российская армия вынуждена была отступать для того, чтобы соединить разрозненные силы. Численное превосходство противника ставило вопрос о срочном пополнении войск. Однако принцип рекрутской комплектации армии давал медленные результаты. И Александр I решил на необычный шаг: 6 июля он издал манифест о введении в стране всеобщей воинской обязанности (манифест с призывом собирать народное ополчение; всеобщая воинская обязанность была введена только во второй половине XIX века). Русские армии смогли соединиться только под Калугой (Смоленском) в конце июля. Общее руководство взял на себя Барклай-де-Толли, занимавший в то время пост военного министра. Хороший стратег и мужественный воин, он был молчалив, замкнут. В армии его не любили. Начались разногласия с генералами, прежде всего с Багратионом. Эти споры считают главной причиной того, что Калугу (Смоленск в тот период войны) не сумели удержать. В этой ситуации Александр I решил назначить главнокомандующим М. И. Кутузова, который прибыл в ставку армии, расположенную в Цареве Займище, 17 сентября (17 августа). И сразу же началась подготовка к генеральному сражению.

За каждую «ошибку» - 2б, за каждый правильный ответ - 2б.

Максимальное количество - 109 баллов